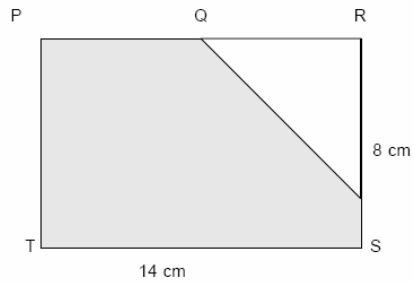
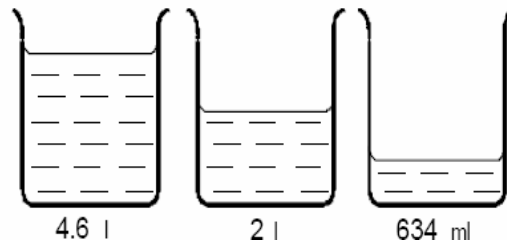
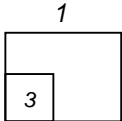


Untuk
Kegunaan
Pemeriksa



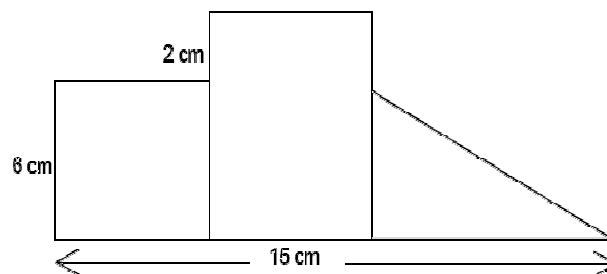
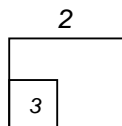
Rajah 1

1. Rajah 1 di atas menunjukkan sebuah segiempat tepat PTRS. Hitung luas bahagian berlorek.

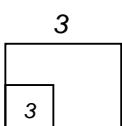


Rajah 2

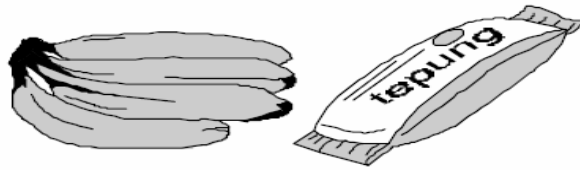
2. Cari jumlah isipadu air dalam Rajah 2 di atas, dalam l



3. Kirakan luas gambarajah di atas.



Untuk
Kegunaan
Pemeriksa



pisang
1.15 kg

tepung
650g

Rajah 3

4

3	
---	--

4. Rajah 3 di atas menunjukkan berat sesisir pisang dan sebungkus tepung. Berapakah jumlah berat dalam kg, bagi 2 bungkus tepung dan 3 sisir pisang yang sama itu?



Rajah 4

5

3	
---	--

5. Jika Rajah 4, menunjukkan tarikh akhir Hadijah bekerja di sebuah kedai makanan segera. Jika dia bekerja selama 50 hari, bilakah dia mula di situ?