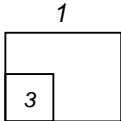


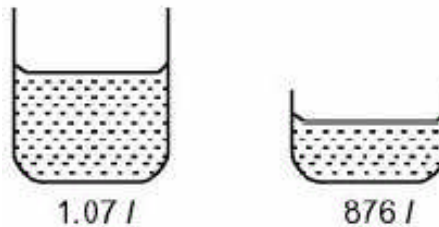
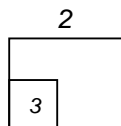
Untuk
Kegunaan
Pemeriksa



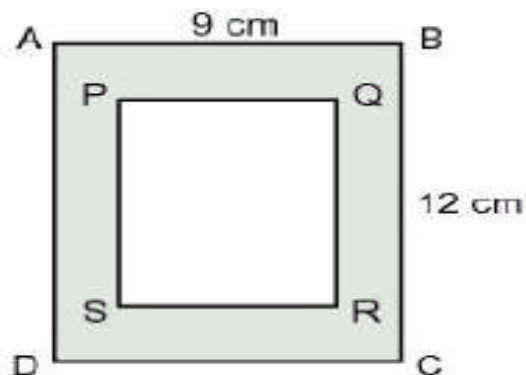
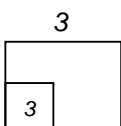
Ahli keluarga	Umur
Bapa	
Ibu	32
Abang	12
Kakak	10
Adik	6

Jadual 1

1. Jadual 1 menunjukkan umur setiap ahli dalam suatu keluarga. Berapakah umur 'bapa' jika purata umur ahli keluarga tersebut ialah 19 tahun.



2. Berapakah jumlah isipadu air, dalam l , bagi kedua-dua bekas di atas?



3. ABCD dan PQRS di bawah ini ialah sebuah segiempat tepat. Jika luas PQRS ialah 36cm^2 , berapakah luas kawasan yang berlorek?

Untuk
Kegunaan
Pemeriksa

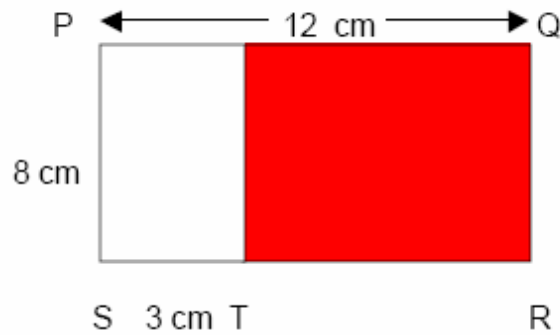
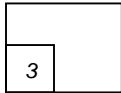


RM 22.50

Beras Wangi

4. Rajah di atas menunjukkan berat dan harga sekampit beras. Puan Salmah ingin membeli 12kg beras yang sama. Berapakah wang yang perlu dibayarnya?

4



5. Hitungkan perimeter, dalam cm, kawasan yang berlorek.

5

