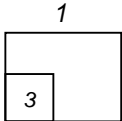
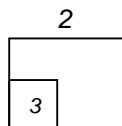
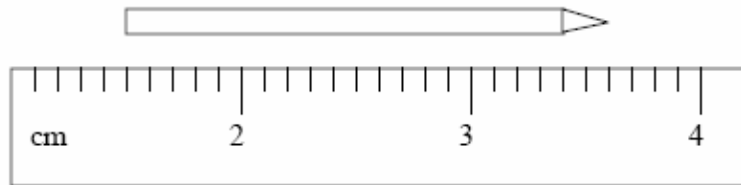


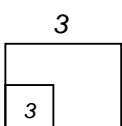
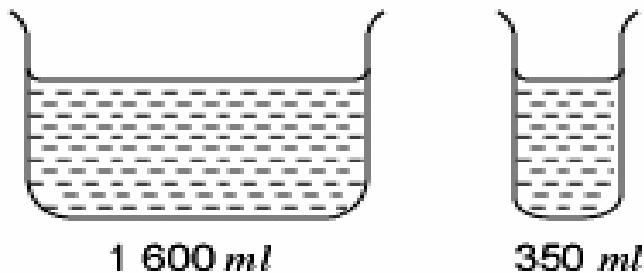
Untuk
Kegunaan
Pemeriksa



1. Hitungkan perimeter, dalam cm, bagi kawasan berlorek yang terdiri daripada segiempat tepat yang sama besar.



2. Rajah di atas menunjukkan panjang sebatang pensil yang diukur dengan menggunakan sebatang pembaris. Jika Ahmad telah mengasah 0.4cm daripada pensil tersebut, berapakah baki panjang pensil yang tinggal?



3. Berapa literkah perbezaan isipadu susu segar antara dua bekas di atas?

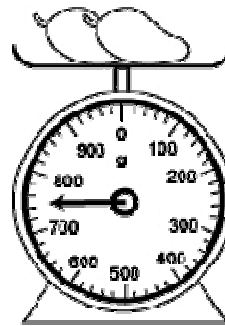
Untuk
Kegunaan
Pemeriksa



4. Rajah di atas menunjukkan tarikh Puan Nora berada di luar negara. Cari bilangan hari dia berada di luar negara.

4

3	
---	--



5. Berapa jumlah berat dalam kg, lima biji mangga yang sama saiz seperti di atas?

5

3	
---	--

