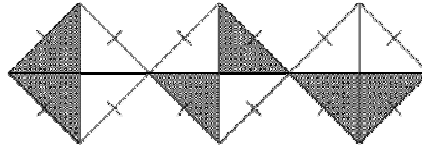


Untuk  
Kegunaan  
Pemeriksa

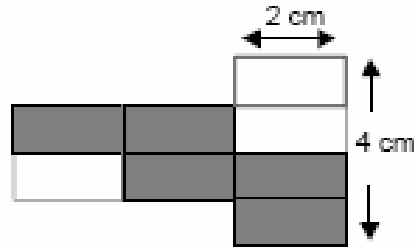
1. Berapa peratuskah kawasan yang berlorek dari seluruh rajah?



1

|   |
|---|
| 3 |
|---|


2. Rajah di bawah dibina pada petak-petak segiempat tepat yang sama besar. Nyatakan perimeter, dalam cm, kawasan yang berlorek?



2

|   |
|---|
| 3 |
|---|

3. Rajah di bawah terdiri daripada segitiga-segitiga sama sisi yang sama besar. Berapa peratuskah kawasan yang berlorek daripada seluruh rajah?



3

|   |
|---|
| 3 |
|---|



Untuk  
Kegunaan  
Pemeriksa

4. Berapakah harga 7 biji durian dalam rajah di atas?



9 biji = RM 36

4

|   |  |
|---|--|
| 3 |  |
|---|--|

5. Berdasarkan senarai harga dalam jadual di bawah, berapakah jumlah harga 1 batang pensel dan 4 buah buku?

| Alat tulis | Harga seunit |
|------------|--------------|
| Pensel     | 70 sen       |
| Buku       | RM1.20       |

5

|   |  |
|---|--|
| 3 |  |
|---|--|

