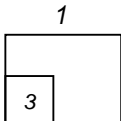


Untuk
Kegunaan
Pemeriksa

1. Jadual di bawah menunjukkan bilangan orang yang melihat pameran lukisan.

Kategori	Dewasa	Kanak-kanak
Bilangan	32	18

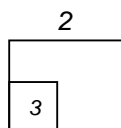
20% daripadanya adalah lelaki. Berapakah bilangan lelaki?



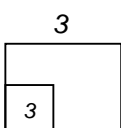
2. Jadual di bawah menunjukkan perbelanjaan Ramli selama 4 hari.

Hari	Ahad	Isnin	Rabu	Khamis
RM	3.80	4.00	1.50	3.90

Hitungkan purata perbelanjaan Ramli sehari.




3. Purata berat Ridzuan, Faiz dan Safuan ialah 28kg. Berat Ridzuan ialah 32kg, manakala berat Faiz 27kg. Berapakah berat Safuan dalam kg?



Untuk
Kegunaan
Pemeriksa

4. Rajah di bawah menunjukkan sukatan dua bekas air X dan bekas air Y.



Berapakah bilangan bekas Y diperlukan untuk mengisi penuh air ke dalam bekas X?

4

3	
---	--

5. Jadual di bawah menunjukkan harga tiga jenis barang.

Barang	Harga seunit
Cawan	RM 2.80
Gelas	90 sen
Pinggan	RM 4

Emak membeli 5 cawan, 3 biji gelas dan 2 biji pinggan. Berapakah harga yang perlu emak bayar?

5

3	
---	--



